



Prénom &amp; Nom :

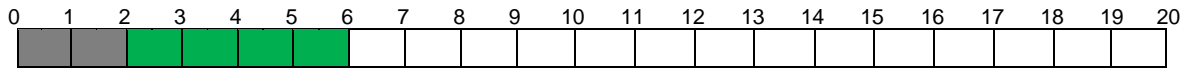
Date :

ie m'entraîne T1


# La table par 2

## ① COLORIE les cases pour obtenir le résultat.

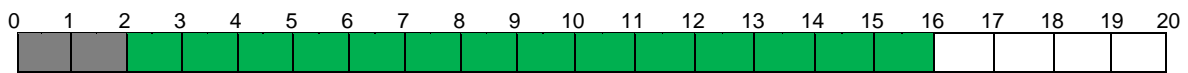
$2 \times 3 = 6$



$2 \times 5 = 10$



$2 \times 8 = 16$



## ② CALCULE.

$0 \times 2 = 0 \quad 1 \times 2 = 2 \quad 2 \times 2 = 4 \quad 3 \times 2 = 6 \quad 4 \times 2 = 8 \quad 5 \times 2 = 10$

$6 \times 2 = 12 \quad 7 \times 2 = 14 \quad 8 \times 2 = 16 \quad 9 \times 2 = 18 \quad 10 \times 2 = 20$

## ③ COMPLETE les cases grisées.



## ④ ECRIS la réponse.

Au zoo, il y a 8 autruches.

Combien y-a-t-il de pattes en tout ?

Il y a 16 pattes.



Nous avons 4 nouveaux petits poussins.

Combien y-a-t-il de pattes en tout ?

Il y a 8 pattes.

J'ai 5 pièces de 2€ dans ma tirelire.

Cela fait 10 €

